

نيابة القنيطرة

الأستاذ : خالد المكاوي

مادة العلوم الفيزيائية و الكيميائية

السنة الثالثة إعدادي

ثانوية معاذ بن جبل الإعدادية

سوق أربعاء الغرب

notion de force مفهوم القوة

4

I- القوة :1- مفهوم القوة :

نقرن كل تأثير ميكانيكي بمقدار فيزيائي يسمى القوة كما نقرن القوة بمقدار متجهي .

مثال :

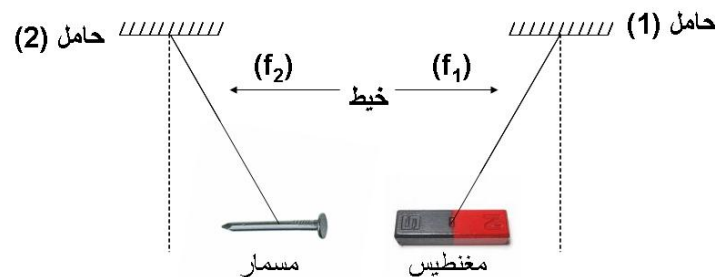
- يطبق الخيط قوة على الجسم (C) .
- يطبق مغناطيس قوة على مسمار حديدي .

2- جرد القوى :

جرد القوى هو البحث عن كل القوى الخارجية المؤثرة على الجسم المدروس أو المجموعة المدروسة حيث نعزل الجسم المدروس عن الأجسام أخرى .

❖ لجرد القوى المطبقة على الجسم المدروس :

- يجب أولاً تحديد المجموعة المدروسة .
- ثم تحديد القوى المطبقة على المجموعة .

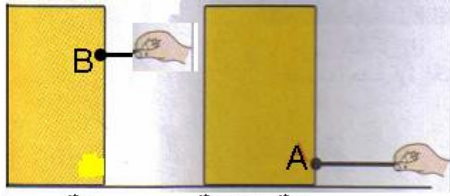
تطبيق :

- الجسم المدروس هو : { المسمار الحديدي }
- القوى المطبقة على المسمار .

ثلاث قوى :

- قوة تماس : تأثير الخيط (f_2) على المسمار .
- قوى عن بعد : - تأثير المغناطيس على المسمار .
- تأثير جاذبية الأرض على المسمار (وزن المسمار) .

II- مميزات القوة : les caractéristiques de la force1- نقطة التأثير : le point d'applicationأ- تجربة :



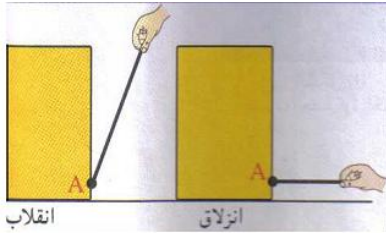
حركة إزاحة حركة دوران

نجر العلبة بواسطة خيط في نقطتين مختلفتين A و B :

- هل يتغير مفعول القوة المطبقة من طرف الخيط على العلبة في النقطتين A و B ؟
- ✓ يختلف مفعول القوة باختلاف النقطة التي يطبق فيها الخيط القوة و تسمى هذه النقطة بنقطة التأثير .

ب- استنتاج :

- تنتمي نقطة التأثير إلى الجسم المؤثر عليه .
- بالنسبة لقوة تماس الموضوعة فإن نقطة التأثير هي نقطة تماس الجسم المؤثر و الجسم المؤثر عليه .
- بالنسبة لقوة تماس الموزعة فإن نقطة التأثير هي المركز الهندسي للأجسام ذات الأشكال الهندسية البسيطة (مركز الثقل) .



2- خط التأثير : ligne d'action

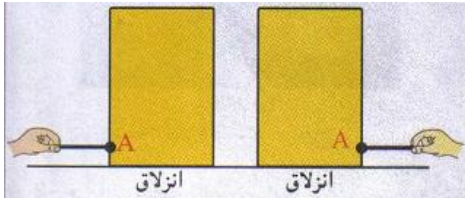
نجر علبة من نفس نقطة التأثير في اتجاهين مختلفين :

- هل يتغير مفعول القوة باختلاف اتجاهها ؟
- ✓ يختلف مفعول القوة باختلاف اتجاهها أي خط تأثيرها .
- ✓ يمر خط التأثير من نقطة التأثير و يمكن أن يكون أفقيا أو مائلا أو رأسيا .

3- المنحى : le sens

نجر علبة من نفس نقطة التأثير و نفس خط التأثير لكن في منحنيين مختلفين :

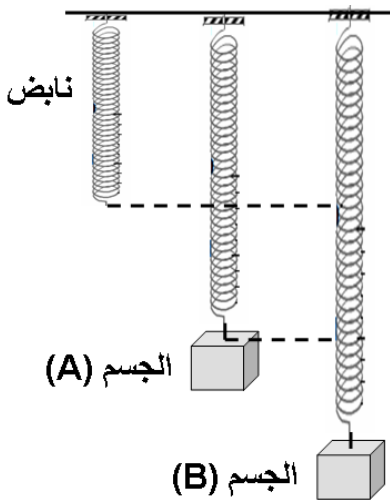
- ✓ يختلف مفعول القوة حسب منحى الحركة التي تسببها هذه القوة
- و يمكن أن يكون من اليمين إلى اليسار أو من الأعلى إلى الأسفل أو العكس .



4- الشدة : intensité

نعلق جسم (A) بواسطة نابض ثم نقيس إطالة النابض , ثم نعلق جسم (B) و نقيس إطالته من جديد علما أن كتلة الجسم (B) أكبر من كتلة الجسم (A) :

سبب اختلاف إطالة نابض القوة المطبقة من طرف الجسم B أشد من القوة المطبقة من طرف الجسم A .




- استنتاج :

مميزات القوة هي : نقطة التأثير , خط التأثير , المنحى , الشدة .

III- قياس شدة القوة :

الشدة مقدار فيزيائي يتم قياسها باستعمال جهاز الدينامومتر le dynamomètre الذي تعتمد خاصيته على تشوه النابض و يتناسب مع شدة القوة المطبقة عليه وحدة شدة القوة في النظام العالمي للوحدات هي نيوتن newton نرسم له بالحرف N .
و نرسم لشدة القوة ب F أو P أو R أو T أو ... ,



IV- تمثيل متجهة القوة :

نقرن القوة بمقدار متجهي يسمى متجهة القوة نمثله بسهم :

- أصله يطابق نقطة تأثير القوة .
- اتجاهه هو اتجاه خط تأثير القوة .
- منحاه هم منحي القوة .

طوله يتناسب اطرادا مع شدة القوة حسب السلم الذي يتم اختياره و يُرمز لمتجهة القوة ب: $\vec{R}, \vec{P}, \vec{T}, \vec{F}$

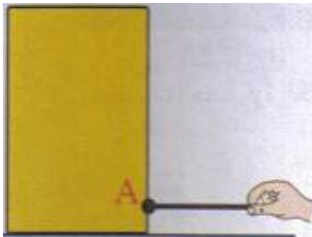
❖ تطبيق :

نجر علبة بواسطة خيط :

أ- حدد مميزات القوة المطبقة من طرف الخيط على العلبة علما أن شدتها هي $F = 3N$

ب- مثل هذه القوة : السلم $1N \rightarrow 1cm$

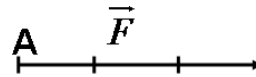
أ-



الشدة	المنحي	خط التأثير (الاتجاه)	نقطة التأثير
$F = 3N$	من النقطة A إلى اليد أو من اليسار إلى اليمين	الاتجاه الأفقي المار من A	A

$1N \rightarrow 1cm$

$3N \rightarrow 3cm$



ب- نمثل \vec{F} بسهم طوله 3cm

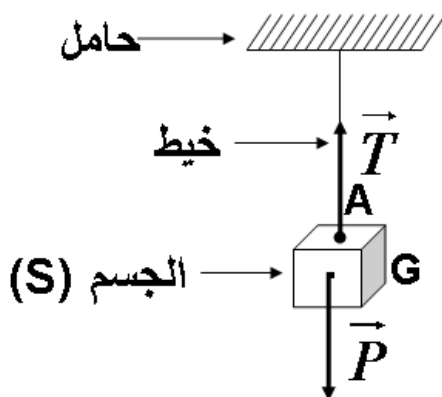
❖ تقويم :

نعتبر جسم (S) معلق بواسطة خيط : حيث $T = P = 30 N$

1 - أجرد القوى المطبقة على الجسم (S) ؟

2 - حدد مميزات كل قوة ؟

3 - مثل هذه القوى بالسلم : $10N \rightarrow 1cm$ ؟



الأستاذ : خالد المكاوي

الفيزياء و الكيمياء

ثانوية معاذ بن جبل الإعدادية : سوق أربعاء الغرب

1 - الجسم المدروس : { الجسم (S) }

جهد القوى المطبقة على الجسم (S)

\vec{P} : القوة المطبقة من طرف الأرض على الجسم (S)

\vec{T} : المطبقة من طرف الخيط على الجسم (S)

2 - مميزات \vec{P} : القوة المطبقة من طرف الأرض على الجسم (S) .

- نقطة التأثير : النقطة G (مركز ثقل الجسم)

- خط التأثير (الاتجاه) : المستقيم الرأسي المار من G

- المنحى : من G نحو الأسفل

- الشدة : $P = 30 \text{ N}$

❖ مميزات القوة \vec{T} : المطبقة من طرف الخيط على الجسم (S) :

- نقطة التأثير : النقطة A نقطة تماس الخيط بالجسم (S) .

- خط التأثير (الاتجاه) : المستقيم الرأسي المار من A .

- المنحى : من A نحو الأعلى .

- الشدة : $T = P = 30 \text{ N}$

3 - نمثل $10\text{N} \rightarrow 1\text{cm}$ أي $30\text{N} \rightarrow 3\text{cm}$ نمثل متجهة القوتين \vec{T} و \vec{P} بسهم طوله 3cm .

• ملحوظة : $\vec{T} = -\vec{P}$

المعجم العلمي

Contact répartie

Caractéristique

Direction

Sens

Centre de gravité

Ressort

Newton

Représentation

تماس موزع

مميزة

الاتجاه

المنحى

مركز الثقل

نابض

نيوتن

تمثيل

Force

Contact localisé

Point d'application

Droite d'action

Intensité

Poids

Dynamomètre

Vecteur

قوة

تماس مموضع

نقطة التأثير

خط التأثير

شدة

وزن

دينامومتر

متجهة